

GEOGRAFIA

01. Os processos geomorfológicos internos ou exógenos deixam sempre impressas, nas paisagens, as marcas de sua atuação. Eles desenvolvem, inclusive, um conjunto de feições de relevo característico. Esse fato reveste-se de uma particular importância, quando o pesquisador de áreas, como Biologia, Geografia, Geologia etc, volta-se à análise de ambientes pretéritos. Com relação a esse assunto, observe, atentamente, a fotografia reproduzida a seguir e assinale, com base nas evidências morfológicas, o processo responsável pela elaboração da paisagem visualizada em primeiro plano.



- A) Erosão eólica.
- B) Erosão glacial.
- C) Tectonismo raptural.
- D) Neotectonismo plástico.
- E) Sedimentação fluvial.

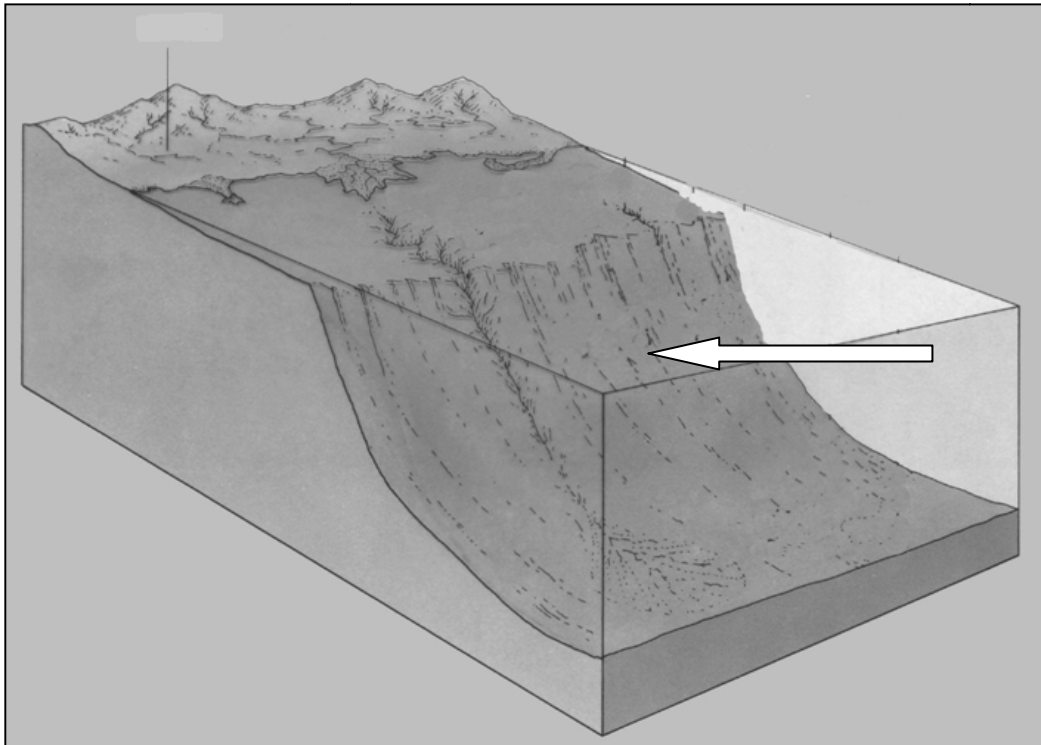
02. A evaporação da água absorve energia térmica, de forma que, quando a água evapora ou se transforma em vapor d'água, as moléculas de água aprisionam uma certa quantidade dessa energia térmica. Nos ambientes climaticamente secos, como, por exemplo, o Sertão nordestino, esse fenômeno é mais intenso. Assinale a alternativa que denomina CORRETAMENTE essa energia aprisionada.

- A) Evapotranspiração potencial.
- B) Calor latente.
- C) Ciclone latente.
- D) Frente oclusa.
- E) Calor específico do ar.

03. Populações inteiras são, às vezes, expulsas de seus territórios. Esses povos sem-território ficam acoados e privados de seus direitos de cidadania e passam a viver em condições extremamente precárias. Exemplifica esse fato a guerra entre as etnias hutu e tutsi, que provocou aproximadamente meio milhão de refugiados. Essa desterritorialização aconteceu na(no, em)

- A) Croácia.
- B) Eritreia.
- C) Azerbaijão.
- D) Afeganistão.
- E) Ruanda.

04. Observe, atentamente, o desenho esquemático a seguir, correspondente a uma morfoestrutura observada em área de relevo submarino, fortemente influenciada pelas ações tectônicas.



O que a seta está indicando?

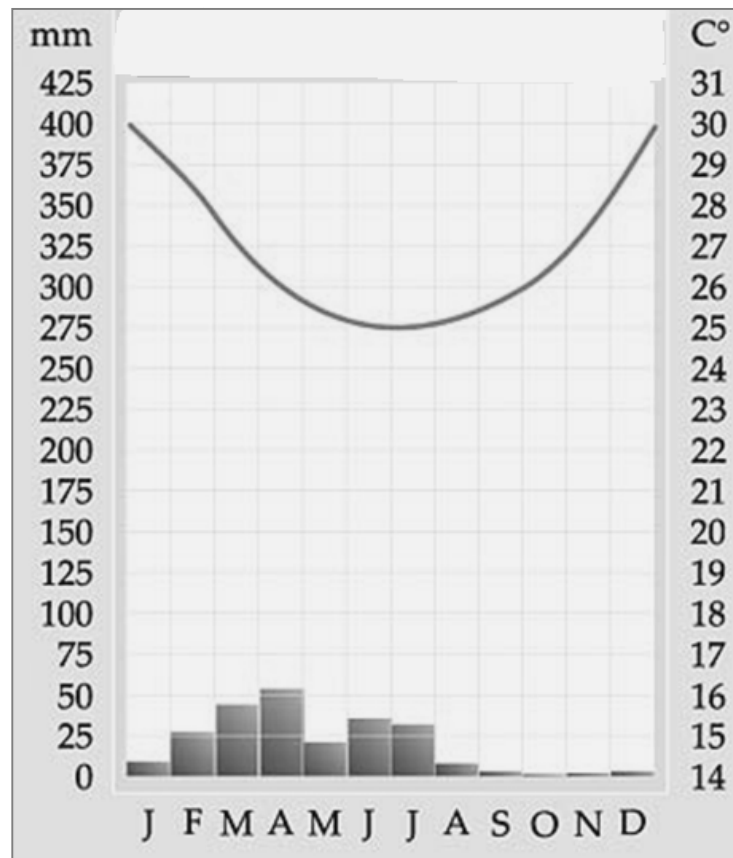
- A) Planície Abissal.
- B) Talude Continental.
- C) Plataforma Continental.
- D) Delta-Estuário.
- E) Dorsal Oceânica.

05. *“Há na superfície oceânica uma corrente que transporta águas quentes e salinas para o nordeste do Atlântico. O calor que ela libera para a atmosfera aquece a Europa ocidental, constituindo-se, assim, num elemento de fundamental importância para o andamento do tempo naquele continente. Perdendo calor, a água se esfria, mistura-se com as águas mais frias de origem ártica e se torna tão densa que acaba afundando...”*

Esse texto está se referindo à

- A) Contra-Corrente Sul-Equatorial.
- B) Corrente Kuro Sivo.
- C) Corrente “El Niño Atlântico”.
- D) Corrente do Golfo.
- E) Corrente Quente do Brasil.

06. A temperatura do ar atmosférica e a precipitação pluviométrica são elementos de grande importância à análise climato-ambiental, sobretudo no mundo tropical. Esses elementos podem ser representados num diagrama, como o que é apresentado a seguir. Neste, a linha curva indica o andamento médio da temperatura ao longo do ano, as barras inferiores correspondem às chuvas mensais, e as letras são a abreviatura de cada mês do ano. Observe-o atentamente.



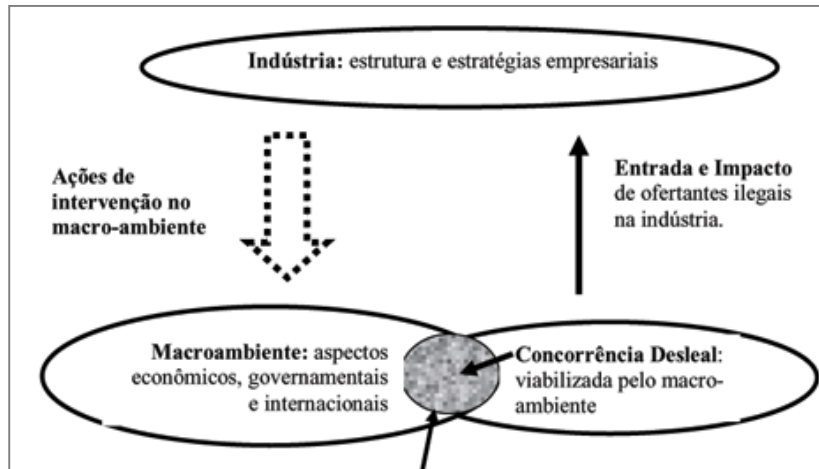
Este diagrama permite que se chegue às seguintes conclusões:

1. Essa localidade situa-se no hemisfério norte, em pleno domínio tropical, numa área elevada.
2. O clima dessa localidade é quente, mas seco, do tipo BSh, segundo a Classificação Climática de W. Köppen.
3. Nessa localidade, a evapotranspiração potencial anual deve superar a precipitação pluvial anual; há, assim, um déficit hídrico.
4. A localidade situa-se integralmente, no hemisfério sul e possui um clima de caráter subtropical.
5. As variações térmicas anuais e diárias nessa localidade são insignificantes, o que significa dizer que ela se situa próxima do Trópico de Capricórnio.
6. A localidade possui um regime de chuvas de primavera-verão, provocado por invasões de anticiclones móveis.

Estão CORRETAS apenas

- A) 2 e 3.
- B) 2, 3 e 4.
- C) 1, 2 e 3.
- D) 3, 4 e 6.
- E) 1, 2, 5 e 6.

07. Observe o gráfico a seguir. O que ele nos permite afirmar CORRETAMENTE?



1. Os fatores empresariais estão relacionados à estratégia da empresa e à capacitação e competência desta.
2. Os fatores macroambientais englobam os aspectos inerentes às contingências geográficas, econômicas e até políticas.
3. O esquema mostra que desequilíbrios na estrutura sistêmica do macroambiente permitem que a concorrência desleal ocupe um espaço, passando a fazer parte, também, do ambiente.
4. A estratégia desempenha o papel de adequar o comportamento da empresa capitalista, por exemplo, com suas limitações de recursos e capacitações, aos padrões de concorrência estabelecidos pelo ambiente econômico e político.

Está(ão) CORRETA(S)

- A) apenas 1. B) apenas 2. C) apenas 2 e 4. D) apenas 1, 3 e 4. E) 1, 2, 3 e 4.

08. A fotografia reproduzida a seguir mostra, com muita clareza, um importante fenômeno investigado pela Geografia Física. Assinale-o.



- A) Formação de ciclones tropicais nas Antilhas.
 B) Gênese de chuvas frontológicas nas áreas de exceção.
 C) Formação de precipitações por imposição orográfica.
 D) Avanço de ciclones extratropicais.
 E) Desenvolvimento de nuvens estratificadas, decorrentes de uma ação anticiclônica.

09. No Nordeste brasileiro, existe uma ampla unidade de paisagem, muito estudada, por sinal, pela Geografia. Essa unidade é conhecida como “Depressão Sertaneja”. Identifique as características dessa depressão.

1. Apresenta, em algumas áreas, ocorrências minerais, como, por exemplo, a Schelita, a Magnesita e Gipsita, além de pegmatitos.
2. Possui uma precipitação pluvial média anual, que se situa entre 400 - 900mm, e elevada taxa de evaporação.
3. As chuvas são concentradas em curto período do ano, e a estação seca, provocada pelo avanço de frentes frias, é longa (sete meses ou mais).
4. Baixo potencial de águas subterrâneas, exceto nas localidades em que dominam os terrenos graníticos e gnáissicos.
5. Inexistência de ablação dos horizontes superficiais dos solos que, em geral, são medianamente desenvolvidos.
6. Apresenta, muitas vezes, problemas de salinização dos solos, sobretudo nos ambientes de baixadas.

Somente está CORRETO o que se afirma em

- A) 1 e 3.
- B) 1, 2 e 6.
- C) 2, 3 e 5.
- D) 1, 4 e 6.
- E) 1, 2, 3, 5 e 6.

10. O Brasil é um país, que possui um regime democrático assegurado pela Constituição de 1988. Essa mesma Constituição, que deve ser respeitada e obedecida por todos, estabelece uma série de direitos e garantias aos brasileiros e aos estrangeiros. Identifique-os entre os que são mencionados a seguir:

1. É livre a manifestação de pensamento, sendo, no entanto, vedado o anonimato.
2. Ninguém será privado de direitos por motivo de crença religiosa, ou mesmo, de convicção filosófica e política, a não ser, se as invocar, para se eximir de obrigação legal a todos imposta e recusar-se a cumprir prestação alternativa, fixada pela lei.
3. É livre a expressão da atividade artística, científica e de comunicação, mas a utilização de charges humorísticas que envolvam políticos ou líderes religiosos terá que ser submetida à apreciação e liberação ou não das autoridades policiais do Estado.
4. As associações para fins lícitos têm liberdade plena, inclusive as de caráter paramilitar, desde que não utilizem símbolos político-ideológicos.
5. O direito à propriedade privada dos meios de produção é assegurado, mas a que objetiva um lucro exorbitante poderá ser confiscada, passando a ser dirigida pelos sindicatos dos trabalhadores que nela exercem atividades.

Estão CORRETAS apenas

- A) 1 e 5.
- B) 1 e 2.
- C) 2 e 5.
- D) 1, 3 e 4.
- E) 2, 3, 4 e 5.

Nas questões de 11 a 14, assinale, na coluna I, as afirmativas verdadeiras e, na coluna II, as falsas.

11. Sobre o importante tema A Formação Territorial Brasileira, são feitas as considerações a seguir. Com base nos seus conhecimentos históricos e geográficos, identifique as que são verdadeiras e as falsas, se existirem.

I	II
---	----

0	0
---	---

No regime das Capitânicas Hereditárias, nos séculos XVI e XVII, os donatários possuíam amplos poderes nas suas capitânicas, inclusive o de distribuir sesmarias. Esse regime fragmentou a América Portuguesa.

1	1
---	---

A economia canavieira foi o centro da empresa agrícola do Brasil Colonial; essa economia baseou-se no Sistema de "Plantation".

2	2
---	---

A expansão territorial do Brasil foi realizada por diversos tipos de movimentos ditos expansionistas, como, por exemplo, a exploração de drogas e especiarias existentes no interior da colônia e nas expedições militares.

3	3
---	---

A existência de solos litólicos rasos de massapê, de grande fertilidade na Zona da Mata nordestina, e o predomínio do clima quente e úmido (As') foram fatores decisivos no desenvolvimento da economia canavieira e, conseqüentemente, na criação de diversas cidades pernambucanas, como Goiana, Igarassu e Barreiros.

4	4
---	---

No século XVII, a exportação de fumo e a descoberta de ouro e bauxita na parte ocidental do Nordeste brasileiro, na fronteira com o que hoje é o Estado do Tocantins, foram fatores que influenciaram a Coroa lusitana a decidir-se pela formação de várias cidades, como Teresina, Arapiraca, Mariana, entre outras.

12. "Com o rápido esgotamento dos solos do vale do Paraíba, a cafeicultura avança progressivamente em direção a São Paulo, onde se expande rapidamente a partir de Jundiá (região de Campinas) até o Planalto Ocidental (Ribeirão Preto, Bauru, Marília, etc). A partir da segunda metade do século XIX, São Paulo torna-se por mais de um século principal centro produtor do país."

(Texto extraído do livro: Geografia do Brasil. Autor- Marcos de Amorim Coelho. Editora Moderna, S/D)

Com relação a esse tema abordado no texto, apontam-se vários fatores que são considerados responsáveis pela expansão cafeeira em São Paulo. Identifique-os.

I	II
---	----

0	0
---	---

O emprego de mão-de-obra assalariada de imigrante.

1	1
---	---

O relevo suavemente ondulado e planaltos de altitudes médias.

2	2
---	---

A existência de um clima regional do tipo frio, favorável a esse cultivo muito exigente.

3	3
---	---

Os financiamentos externos e um expressivo sistema de comercialização.

4	4
---	---

A implantação de uma razoável rede ferroviária ligando o interior à capital e à cidade de Santos.

13. A expansão e o desenvolvimento do agronegócio canavieiro no Brasil vêm provocando desterritorialização de algumas unidades e, em especial, de capital de um estado para outro, ou de uma região do país para outra, gerando um processo de reterritorialização nos locais a que se destinam as unidades fabris e o capital. Sobre esse assunto, analise as afirmativas e conclua.

I	II
---	----

0	0
---	---

Este novo movimento do capital no âmbito do setor canavieiro vem expressando uma nova territorialidade, ou seja, um novo ordenamento territorial das agroindústrias e dos espaços plantados com cana-de-açúcar.

1	1
---	---

A crise dos anos 1990 levou inúmeras agroindústrias do Nordeste oriental à falência, e as que permaneceram não foram suficientes para absorver toda a força de trabalho existente.

2	2
---	---

O reordenamento territorial desse agronegócio acarretou mudanças na dinâmica do trabalho, na medida em que reduziu a oferta de empregos e aumentou o desemprego nos locais de onde migraram o capital e as unidades fabris.

3	3
---	---

O movimento dos trabalhadores para o corte da cana-de-açúcar no país ocorre tanto para as regiões tradicionalmente produtoras como para as áreas em processo de expansão, inclusive acompanhando o movimento recente do próprio capital agroindustrial canavieiro.

4	4
---	---

O crescente processo de territorialização e desterritorialização do capital agroindustrial canavieiro provocou mudanças na Geografia do campo no país e na Geografia do trabalho.

14. A Região Sul é uma das cinco macrorregiões, onde se encontra dividido o Brasil. Os Estados que a compõem totalizam uma área de mais de 500.000km², por isso é considerada a menor do país. Sobre as características geográficas mais destacadas dessa região, analise as proposições e conclua.

I	II
---	----

0	0
---	---

Trata-se de uma região que, do ponto de vista físico geográfico, é ocasionalmente atingida, sobretudo durante o inverno, por movimentos intensos do ar atmosférico, denominados anticiclones extratropicais. Esses ventos fortíssimos acarretam, em geral, sérios prejuízos econômicos, sobretudo na porção ocidental de Santa Catarina e Paraná.

1	1
---	---

As áreas de florestas dessa região foram colonizadas por imigrantes eslavos, italianos e alemães, com pequenas e médias propriedades rurais, voltadas, fundamentalmente, à policultura.

2	2
---	---

A região dos Campos foi ocupada desde o Brasil Colonial por latifúndios escravocratas e utilizada, de início, para a pecuária extensiva e depois, para o cultivo de trigo e soja.

3	3
---	---

A porção oeste dessa região, tradicionalmente produtora de arroz, atravessou uma grave crise econômica neste século, resultante de alterações climáticas desfavoráveis ao cultivo desse produto; em face desse fenômeno, deixou de ser a maior produtora nacional, perdendo espaço, assim, para o Maranhão.

4	4
---	---

O clima da região é predominantemente subtropical, caracterizado por fracas amplitudes térmicas anuais e com chuvas bem distribuídas ao longo do ano; esse clima condicionou, sobremaneira, o cultivo do chá-mate.